

平成27年度

福島成蹊中学校 1期入試問題

理科・社会〔社会分野〕

平成26年12月6日（土）

時間 11時15分～11時35分（20分間）

「はじめ」の合図があるまでは、この問題用紙の中を開いてはいけません。

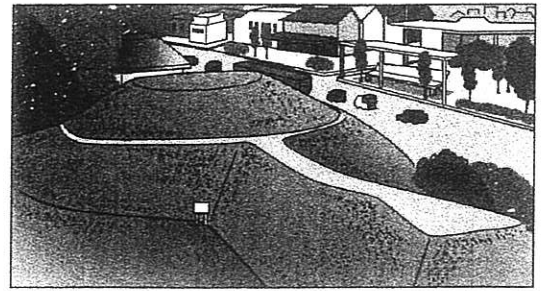
注意事項

1. 問題用紙と解答用紙が配布されます。
2. 問題用紙は1ページから6ページまでです。
3. 問題は【1】から【3】までです。
4. 監督者の指示に従い、解答用紙の注意事項にそって必要事項を記入しなさい。
5. 問題の内容についての質問は、一切応じません。それ以外のことからについてたずねたいことがあれば、手をあげて監督者に聞きなさい。
6. 監督者の「はじめ」の合図で始め、「やめ」の合図ですぐやめなさい。

【1】 次の各問いに答えなさい。

問1 写真は、長崎県東彼杵町^{ひがしそのぎちょう}に復元されたひさご塚古墳である。次の各問いに答えなさい。

写真



(1) この古墳は、大阪府の大山^{だいせん}（大仙）古墳と似た形態である。このような形態の古墳を何というか。

(2) この古墳がつくられたとされる5世紀のわが国のようすとして、正しいものは次のどれか。記号を答えなさい。

- ア 聖徳太子^{しょうとくたいし}（厩戸皇子^{うまやどのおうじ}）は、蘇我氏^{そが}と協力しながら政治をおこなった。
- イ 班田収授法^{はんてんしゅうじゅのほう}により、6歳以上の男女に口分田があたえられた。
- ウ 陸続きであった大陸から、ナウマン象などを追って人々が移動してきた。
- エ 大和政権の大王は、朝鮮半島南部の支配を認めてもらうため中国に使いを送った。

問2 次の資料を見て各問いに答えなさい。

(1) 資料1 中の下線部①

は、摂関政治の全盛期を築いた藤原道長^{ふじわらのみちなが}と同じような手段で権力の強化につとめた。その手段について、系図を参考にして簡単に説明しなさい。


資料1

平家納経^{へいけのうきょう}



① 平清盛^{たいらのきよもり}らが、一族の繁栄を願い、厳島神社^{いつくしま}に納めたものである。

一遍上人絵伝（一遍聖絵）^{いっぺんしょうにん}




布教のために諸国をめぐった、②一遍^{いっぺん}をかいたものである。

③ 踏絵^{ふみえ}



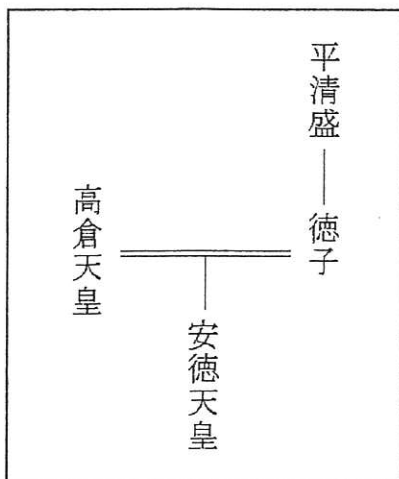
キリスト教信者の取りしまりのために用いられたものである。

寺社参詣^{じしゃさんけい}



④江戸時代にさかんになった、寺社参詣をかいた⑤浮世絵^{うきゑ}である。

系図



(注) 〰〰〰 は夫婦関係を示す。

(2) 資料1中の下線部②が活躍した時代に元軍の襲来である「元寇」が起きた。
このときの鎌倉幕府8代執権であった右の資料2の人物名を答えなさい。



資料2

(3) 資料1中の下線部③が用いられていたころのできごとについて述べた、次のア～ウを年代の古い順に並べ、その記号を左から書きなさい。

ア…もと大阪町奉行所の役人であった大塩平八郎^{おおしおへいはちろう}は、幕府の政治にいきどおり、挙兵した。

イ…キリスト教の禁止や重税に反対して、島原・天草一揆^{しまばら あまくさいっき}（島原・天草の乱）がおこった。

ウ…徳川吉宗^{とくがゆしむね}による享保の改革で、裁判の基準となる公事方御定書^{くじかたおさだめがき}がつけられた。

(4) 資料1中の下線部④について、資料3の人物が江戸幕府を開いた西暦1603年とは何世紀になるか。数字で答えなさい。



資料3

(5) 資料1中の下線部⑤に関して、風景画の優れた作品を残した人物として、正しいものは次のどれか。記号で答えなさい。

ア 狩野永徳^{かのうえいとく} イ 歌川広重^{うたがわひろしげ} ウ 黒田清輝^{くろだせいき} エ 雪舟^{せつしゅう}

問3 右の年表と資料を見て各問いに答えなさい。

(1) 年表中の下線部①には、日本にとって不利となる内容が含まれている。一つは関税自主権がないことである。もう一つは何か答えなさい。

(2) 年表中の下線部②に関して、この憲法を制定するためにヨーロッパへ派遣され、帰国後、初代の内閣総理大臣に就任^{しゅうにん}した資料4の人物は誰か答えなさい。

年表	
年	できごと
1858	① <u>日米修好通商条約</u> が結ばれる。
1889	② <u>大日本帝国憲法</u> が ^{はつぷ} 発布される。
1929	世界恐慌がはじまる。
1951	サンフランシスコ平和条約が結ばれる。
1965	日韓基本条約が結ばれる。
1978	日中平和友好条約が結ばれる。



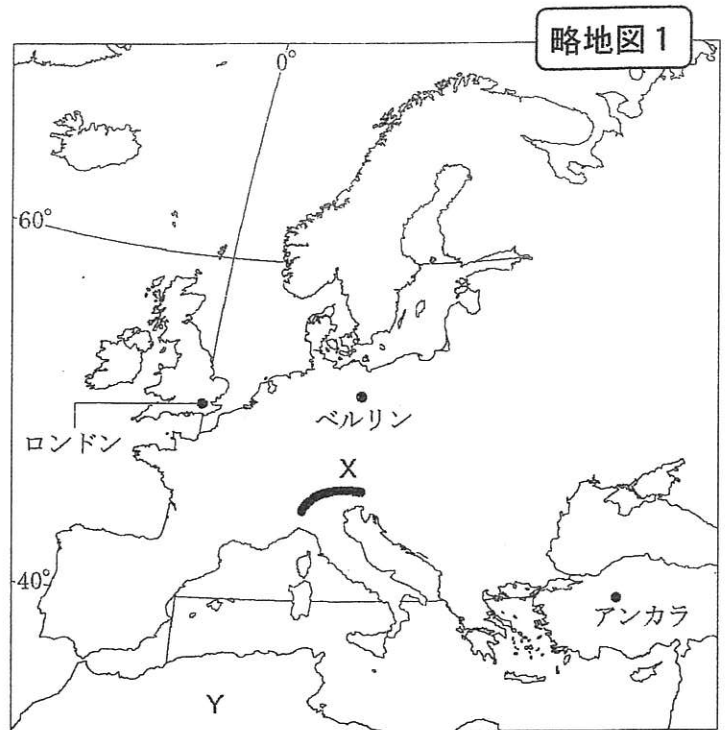
資料4

(3) 前の五千円紙幣の肖像に採用された新渡戸稲造が活躍した国際連盟は「第一次世界大戦」の後に設立された国際機関である。この第一次世界大戦は年表中のA～Cのどの時期のできごとか。記号で答えなさい。

【2】次の地図や表を見て各問いに答えなさい。

問1 右の略地図1・2を見て、次の各問いに答えなさい。

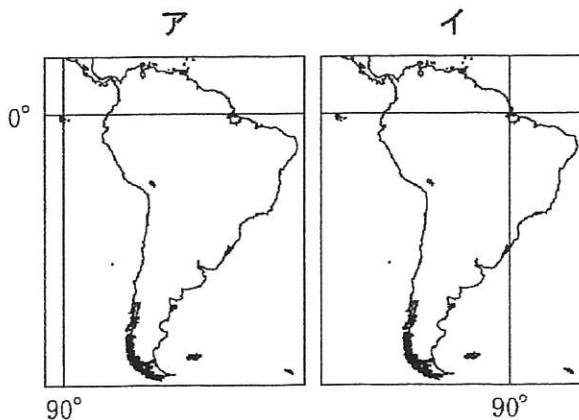
- (1) 略地図1中のXの山脈名を答えなさい。
- (2) 略地図1中のYの陸地は、六大陸のうちのいずれかの大陸の一部である。この大陸は何と呼ばれるか。大陸名を答えなさい。
- (3) 略地図1中には、北緯40度と北緯60度の緯線が描かれている。この2本の緯線と、日本の領域との位置関係について述べた次のア～エのうち、正しいものはどれか。一つ選び、その記号を答えなさい。



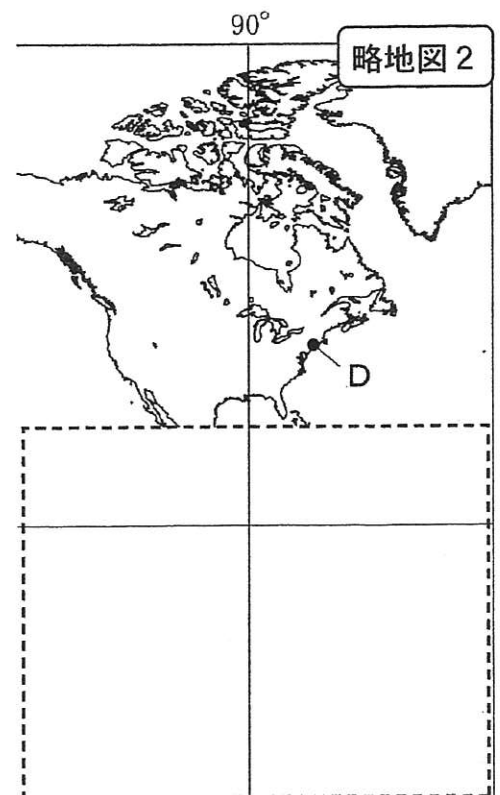
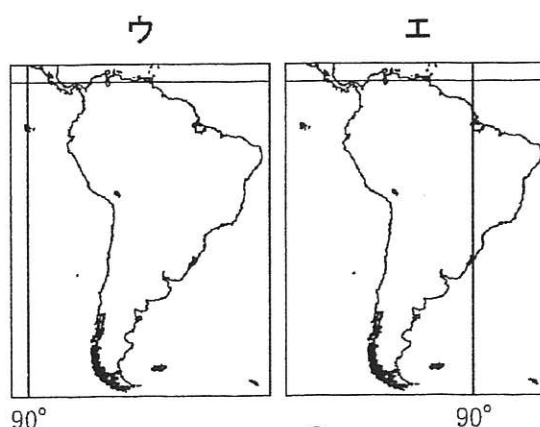
- ア 北緯40度の緯線のみ日本の領域を通る
 イ 北緯60度の緯線のみ日本の領域を通る
 ウ 北緯40度の緯線、北緯60度の緯線のいずれも日本の領域を通る
 エ 北緯40度の緯線、北緯60度の緯線のいずれも日本の領域を通らない

- (4) 略地図1中のロンドン、ベルリン、アンカラの三つの都市のうち、日本が1月10日午前6時のとき、その都市の日時が1月9日午後10時であるのはどこか。ベルリンは東経15度、アンカラは東経30度の経線をそれぞれ標準時としているとして、その都市名を書きなさい。

- (5) 右に示したア～エのうち、0度の緯線(赤道)と西経90度の経線を正しく示したものはどれか。

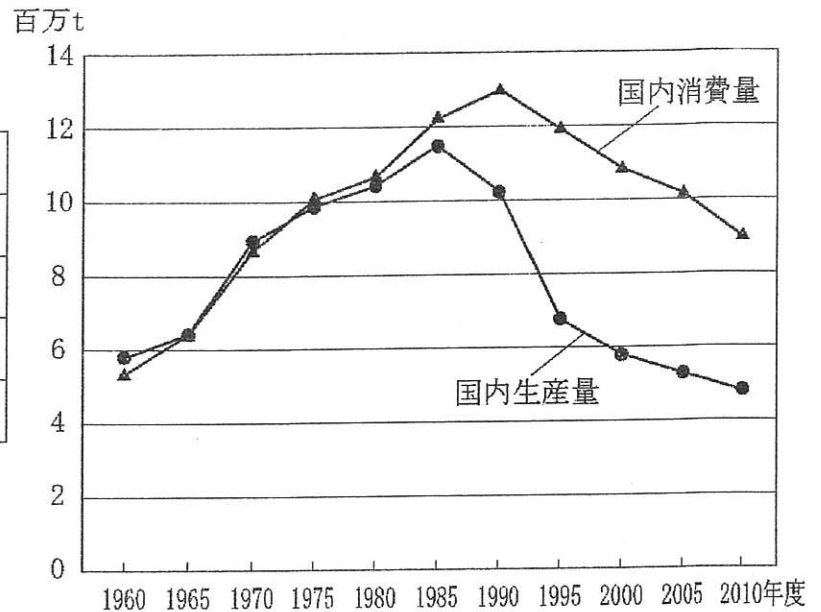


略地図2を参考に一つ選び、記号を答えなさい。ただし、ア～エの縮尺は略地図2と異なる。



問2 下の表は、1960、1985、2010年度における、わが国の米、野菜、肉類、魚介類の自給率をそれぞれ示したものであり、グラフは、そのうちのいずれかの食料の国内消費量と国内生産量の推移を示したものである。グラフが示している食料は、米、野菜、肉類、魚介類のうちのどれか。一つ選び答えなさい。

食料の自給率(%)			
	1960年度	1985年度	2010年度
米	102	107	97
野菜	100	95	81
肉類	93	81	56
魚介類	108	93	55



(農林水産省「食料需給表」により作成)

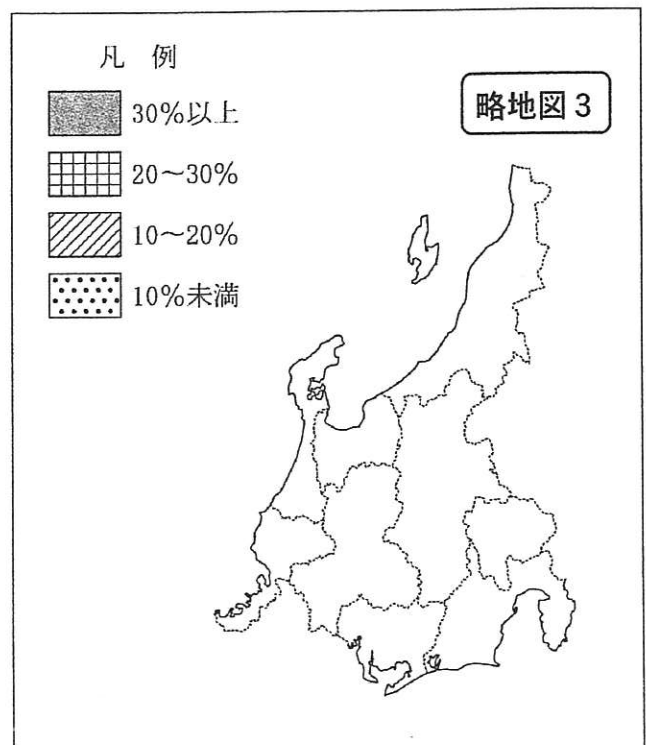
問3 次の各問いに答えなさい。

(1) 下の表は、2009年の中部地方の各県における

製造品出荷額等の総計と、そのうちの輸送用機械器具の出荷額を示したものである。また、略地図3は、表をもとに、各県の製造品出荷額等の総計に占める輸送用機械器具の出荷額の割合について作図しようとしているものである。このうち、静岡県と愛知県について、凡例に従って作図をおこない、解答欄の図の中に書きなさい。

県名	製造品出荷額等の総計(百億円)	輸送用機械器具の出荷額(百億円)
新潟	415	17
富山	287	11
石川	205	8
福井	167	8
山梨	190	10
長野	498	32
岐阜	457	64
静岡	1505	395
愛知	3443	1666

(「データブック・オブ・ザ・ワールド」により作成)



(2) 日本の中部地方には、県名と異なる都市名の県庁所在地が三つある。そのうち、最も東に位置する県庁所在地はどこか。その都市名を書きなさい。

問4 下の資料Ⅰは日本とロシアの面積と人口を、資料Ⅱは日本とロシアの国内総生産の推移を、資料Ⅲは日本とロシアの間の貿易品の構成を示したものである。これらの資料を見て、あとの各問いに答えなさい。

資料Ⅰ 面積と人口(2010年)

	面積 (万 km ²)	人口 (百万人)
日本	38	128
ロシア	1710	143


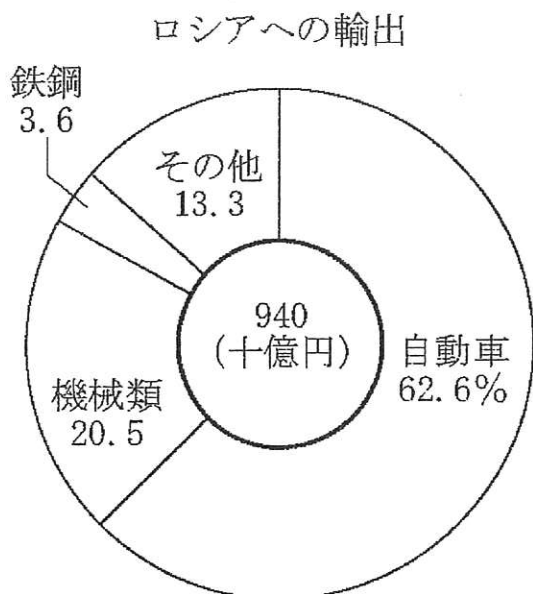
(総務省統計局の資料により作成)

資料Ⅱ 国内総生産の推移

	2000年 (十億ドル)	2010年 (十億ドル)
日本	4730	5504
ロシア	259	1480

(総務省統計局の資料により作成)

資料Ⅲ 貿易品の構成(2011年)



(「日本国勢図会2012/2013」により作成)

(1) 資料Ⅰから考えて、2010年のロシアの人口密度は約何人/km²か。次のア～エから一つ選び、その記号を答えなさい。

ア 約8人/km² イ 約12人/km² ウ 約84人/km² エ 約120人/km²

(2) 資料Ⅰ～Ⅲから、日本とロシアを比較してわかることを述べた次のア～エのうち、誤っているものはどれか。一つ選び、その記号を答えなさい。

- ア 日本はロシアに比べて、2010年の一人あたりの国内総生産が多い
- イ 日本はロシアに比べて、2000年から2010年にかけての国内総生産の増加率が高い
- ウ 日本のロシアからの輸入額は、ロシアへの輸出額より多い
- エ 日本はロシアへは主に工業製品を輸出し、ロシアからは主に鉱産資源を輸入している

【3】 次の文を読んで、各問いに答えなさい。

わが国では、①国会が（ A ）権を、②内閣が（ B ）権を、③裁判所が（ C ）権をそれぞれ担っている。

問1 文中のA～Cに適する語句の組み合わせとして正しいものを次のア～エから一つ選び、記号で答えなさい。

- ア…A立法 B行政 C司法 イ…A行政 B司法 C立法
ウ…A司法 B立法 C行政 エ…A行政 B立法 C司法

問2 下線部①に関して、資料Ⅰは、1892年の衆議院議員選挙で使用された投票用紙を、資料Ⅱは、2012年の衆議院議員総選挙で使用された投票用紙をあらわしたものである。資料Ⅰ、資料Ⅱをみて、投票用紙に記入する内容の違いについて「秘密選挙」という選挙の原則に触れて簡単に説明しなさい。

資料Ⅰ

<p style="writing-mode: vertical-rl; margin: 0;">衆議院議員 選挙投票 用紙 長崎県</p>	
投票者住所氏名	候補者氏名

(注) 用語や漢字は、現在使われているものに置き換えている。また、横書きの文字は左横書きで表記している。

資料Ⅱ

<p style="writing-mode: vertical-rl; margin: 0;">候補者氏名</p>	<p style="text-align: right;">第四十六回 衆議院小選挙区選出議員選挙投票</p> <p style="text-align: center;">○注 意</p> <p style="writing-mode: vertical-rl; margin: 0;">一 候補者の氏名は、欄内に一人書くこと。 二 候補者でない者の氏名は、書かないこと。</p>
<p style="writing-mode: vertical-rl; margin: 0;">長崎県選挙管理委員会之印</p>	

問3 下線部②に関して、内閣は、一つの政党だけでなく複数の政党が協力して組織されることもある。このように複数の政党で組織される政権（内閣）を何というか答えなさい。

問4 下線部③に関して、警察に逮捕された被疑者を裁判所に起訴する役割を担うのは次のア～オのうちどれか。記号で答えなさい。

- ア…裁判官 イ…警察官 ウ…検察官 エ…弁護士 オ…裁判員

問5 2014年10月26日投票の福島県知事選挙によって新しく選出された、現在の福島県知事の名前を答えなさい。