

平成28年度

福島成蹊中学校 1期入試問題

理科・社会〔社会分野〕

平成27年12月5日（土）




時間 11時15分～11時35分（20分間）

「はじめ」の合図があるまでは、この問題用紙の中を開いてはいけません。

注意事項

1. 問題用紙と解答用紙が配布されます。
2. 問題用紙は1ページから5ページまでです。
3. 問題は【1】から【3】までです。
4. 監督者の指示に従い、解答用紙の注意事項にそって必要事項を記入しなさい。
5. 解答は記述式です。最も適切な答えを解答用紙にていねいに記入しなさい。
6. 問題の内容についての質問は、一切応じません。それ以外のことがらについてたずねたいことがあれば、手をあげて監督者に聞きなさい。
7. 監督者の「はじめ」の合図で始め、「やめ」の合図ですぐやめなさい。
8. 定規を使用してもかまいません。ただし、計算機能を有する機器は使用してはいけません。

【1】次の表を見て各問いに答えなさい。

図像資料の一部とその説明	社会の出来事
 <p>伝香川県出土の銅鐸</p> <p>この銅鐸には、きねとうすで脱穀をしている人々の姿などが描かれており、弥生時代に広まっていったA<u>稲作</u>のようすがわかる。</p>	<ul style="list-style-type: none"> <li>・弥生土器がつくられる。</li> <li>・金属器が伝わる。</li> <li>・貧富の差ができる。</li> <li>・ <span style="border: 1px solid black; padding: 2px;">あ</span></li> </ul>
 <p>源氏物語絵巻</p> <p>この絵巻物には、B<u>源氏物語</u>の一場面を題材にして、貴族の女性の服装や住居の内部などが描かれており、平安時代の貴族の華やかなくらしのようすがわかる。</p>	<ul style="list-style-type: none"> <li>・かな文字がつくられる。</li> <li>・C<u>浄土信仰</u>がさかんになる。</li> <li>・摂関政治が行われる。</li> <li>・貴族や寺社に荘園が集まる。</li> </ul>
 <p>真如堂縁起絵巻</p> <p>この絵巻物には、D<u>応仁の乱</u>の際、軽装の足軽が寺院を破壊し、略奪しているところなどが描かれており、室町時代の京都の争乱のようすがわかる。</p>	<ul style="list-style-type: none"> <li>・都市や農村で自治が行われる。</li> <li>・E<u>戦国大名</u>が各地で争う。</li> <li>・国一揆、一向一揆がおこる。</li> <li>・都の文化が地方へ広まる。</li> </ul>
 <p>撰津名所図会</p> <p>この絵には、大阪の蔵屋敷に集められた米を点検し、運び込んでいる人々の姿などが描かれており、江戸時代の活発な商業のようすがわかる。</p>	<ul style="list-style-type: none"> <li>・F<u>街道</u>や航路が整えられる。</li> <li>・商人が同業者組合をつくる。</li> <li>・G<u>上方</u>で町人の文化が栄える。</li> <li>・商品作物の栽培が各地に広まる。</li> </ul>
 <p>安愚楽鍋</p> <p>Hこの絵には、洋服を着て、牛鍋屋の座敷で牛肉を食べる人などが描かれており、明治時代の初めに新しい生活様式を取り入れたようすがわかる。</p>	<ul style="list-style-type: none"> <li>・交通、通信の整備が進む。</li> <li>・日刊新聞が発行される。</li> <li>・欧米の近代思想が広まる。</li> <li>・官営模範工場がつくられる。</li> </ul>

問1 資料Iは、表中の下線部Aにおいて収穫した稲の穂をたくわえるための建物を復元したものである。この建物を何というか答えなさい。

問2 表中の あ に当てはまる弥生時代の社会の出来事として適切なものを、次のア～エから1つ選び、その記号を書きなさい。

ア…百済から仏教が伝わる。 イ…人口が増えて口分田が不足する。

ウ…米と麦の二毛作が行われる。 エ…奴国の王が中国に使いを送る。

資料I



吉野ヶ里遺跡に復元された建物

問3 表中の下線部Bの作者は誰か。その人物名を書きなさい。

問4 表中の下線部Cは、どのような信仰か。資料Ⅱを参考にして、「極楽浄土」の語句を用いて簡単に説明しなさい。

問5 表中の下線部Dをきっかけに、下剋上の風潮が広がっていった。下剋上とはどのような風潮のことか。「身分」、「実力」の語句を用いて簡単に説明しなさい。

資料Ⅱ



問6 資料Ⅲは、表中の下線部Eが領内の武士や農民を統制するためにつくった独自の法の例である。このような法を何というか。次のア～エから1つ選び、その記号を書きなさい。

ア…御成敗式目      イ…班田収授法

ウ…分国法          エ…武家諸法度

資料Ⅲ

一 許可を得ないで他国へ手紙を書き送ってはいけない。

「甲州法度之次第（甲州法度）」より

一 本拠である朝倉館のほか、国のなかに城をかまえてはならない。

「朝倉孝景条々」より

問7 資料Ⅲ中の甲州法度は甲斐の国（現在の山梨県）の戦国大名が定めたものである。川中島の合戦や「風林火山」の軍旗などで有名なこの戦国大名の名前を答えなさい。

問8 表中の下線部Fに関連し、右の略地図は、現在の福岡市周辺を治めた大名の黒田氏が、1677年に福岡から江戸へ行ったときの行程を示したものである。このように江戸時代に、大名が江戸と領地を往復することを定めた制度を何というか答えなさい。



（「福岡県史より作成」）

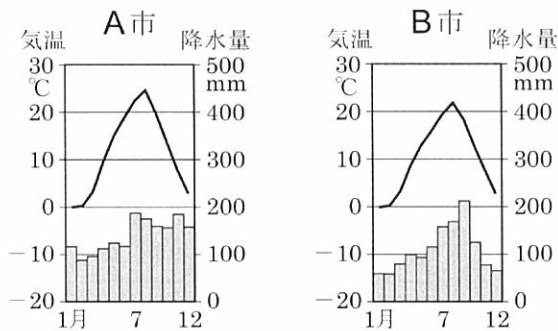
問9 表中の下線部Gでは17世紀末から大阪や京都を中心とした上方の元禄文化が発達した。この時期に俳人として活躍した松尾芭蕉は江戸から東北、北陸などを巡る旅をしている。「月日は百代の過客にして、行きかふ年も又旅人なり」という序文から始まり、多くの俳句が詠み込まれた松尾芭蕉の紀行文を何というか答えなさい。

問10 表中の下線部Hにみられる、欧米の文化を取り入れた世の中の動きを何とよぶか。その名称を書きなさい。

【2】次の地図や表を見て各問いに答えなさい。

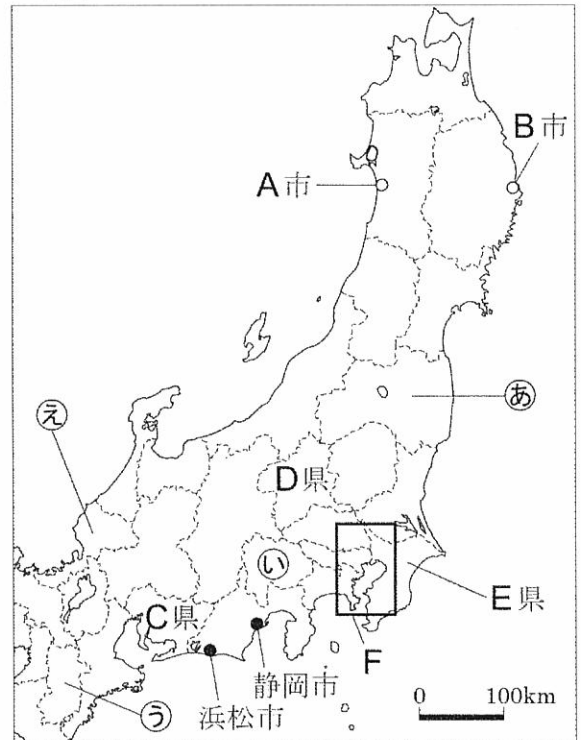
問1 右の地図を見て、(1)～(4)の問いに答えなさい。

(1) 次の二つのグラフは、それぞれ、地図中のA市とB市の月別の平均気温と降水量を表したものである。これらのグラフについて述べた次の文の①、②の{ }の中から適当なものを、それぞれ一つずつ選び、その記号を書きなさい。




(平成25年版 理科年表による)

地図



A市とB市の夏の月別平均気温を比較すると、B市のほうが①{ア…高い イ…低い} ことが分かる。ほぼ同緯度に位置している二つの市の間で、夏の気温にこのような差が生じているのは、B市の気候が、親潮と呼ばれる②{ウ…日本海流 エ…千島海流} の影響を受けているからである。

(2) 右のグラフは、ある農産物の、2012年における、都道府県別の生産量の割合を表したものであり、グラフ中のC～Eの県は、地図中のC～Eの県と一致している。この農産物として適当なものを、ア～エから一つ選び、その記号を書きなさい。



ア…ぶどう イ…りんご ウ…キャベツ エ…じゃがいも

(3) 地図中の①～④の県の中に、県名と県庁所在地名が異なる県が1つある。その県の県庁所在地名を答えなさい。

(注) その他とは、E県より生産量の少ない都道府県の割合の合計である。  
(農林水産省資料より)

(4) 地図中の静岡市や浜松市は、現在全国に20市ある「政令指定都市」に含まれている。東北地方に一つある政令指定都市名を答えなさい。

問2 右のX, Yのグラフは、それぞれ、1970年と2010年のいずれかの年における、我が国の、工業別の出荷額の割合を表したものである。また、グラフX, Y中のa, bは、それぞれ機械、せんいのいずれかに当たる。2010年における工業別の出荷額の割合を表したグラフに当たる記号と、機械に当たる記号をそれぞれ選び、その記号を答えなさい。

X	金属 13.6%	a 44.6	化学 14.2	食料品 11.7	b 1.4 その他 14.5
	Y	金属 19.3%	a 32.3	化学 10.6	食料品 10.4

(2013-2014年版 日本国勢図会による)

問3 表1を見て、下のア～エの中から正しいものを一つ選んで、その記号を書きなさい。

表1 農業産出額上位の都道府県の米と野菜の産出額

2006年					2011年				
順位	都道府県	農業産出額(億円)	米の産出額(億円)	野菜の産出額(億円)	順位	都道府県	農業産出額(億円)	米の産出額(億円)	野菜の産出額(億円)
1	北海道	10,527	1,164	1,712	1	北海道	10,137	1,291	1,903
2	鹿児島	4,079	240	424	2	茨城	4,097	915	1,542
3	千葉	4,014	706	1,570	3	鹿児島	4,069	248	506
4	茨城	3,988	894	1,512	4	千葉	4,009	730	1,568
5	宮崎	3,211	234	669	5	熊本	3,113	409	1,065
6	愛知	3,108	331	934	6	愛知	2,948	326	1,035
7	熊本	2,984	386	975	7	宮崎	2,874	224	688
8	新潟	2,964	1,831	337	8	青森	2,804	535	616
9	青森	2,885	589	653	9	新潟	2,756	1,604	417
10	栃木	2,609	714	730	10	栃木	2,659	797	776

〔農林水産省「平成23年生産農業所得統計」より作成〕

- ア 表1中の道県のうち、2006年と2011年の農業産出額の順位を比べて上昇した道県は、すべて農業産出額が増加している。
- イ 茨城県、千葉県、鹿児島県の農業産出額の順位は2006年、2011年ともに2位から4位以内であるが、農業産出額が増加しているのは茨城県と千葉県である。
- ウ 新潟県は米の産出額の農業産出額に占める割合が2006年、2011年ともに80%を超えている。
- エ 表1中の道県のうち、米と野菜の合計産出額が2,000億円以上の道県は2006年、2011年ともに同じである。

問4 次の表2・3は、みかん・りんごの収穫量の全国に占める割合の高い県を順に示したものであり、帯グラフは、それぞれの収穫量の割合を表したものである。収穫量の上位3県から、Aに適する果物の名称を答えなさい。また、Aの帯グラフにならって、割合の高い順に県名と線を書き込み、Bの帯グラフを完成させなさい。なお、表中のa、bは、青森県、長野県のいずれかである。

表2

(A)の収穫量の上位3県の全国に占める割合(%)	
和歌山	19.6
愛媛	16.2
静岡	13.8

(A)の収穫量の割合を表す帯グラフ

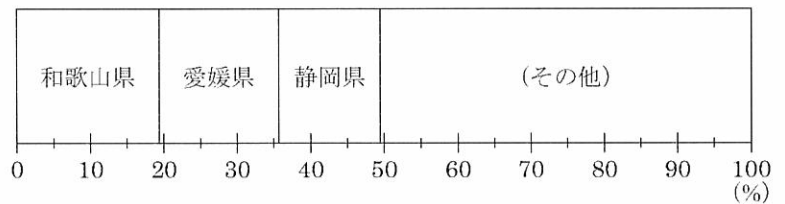
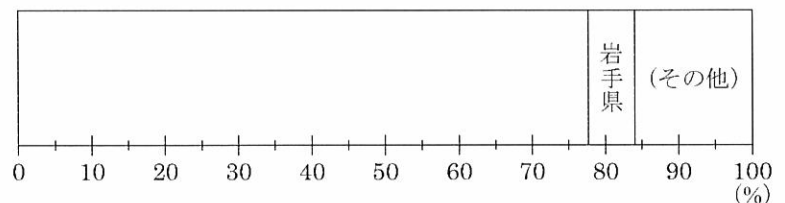


表3

(B)の収穫量の上位3県の全国に占める割合(%)	
a	56.1
b	21.3
岩手県	6.4

(B)の収穫量の割合を表す帯グラフ



(「データでみる県勢 2013年版」をもとに作成)

【3】 次の各問いに答えなさい。

問1 右の資料Iは今年、公職選挙法の改正により選挙権をもつ年齢が70年ぶりに改正されたことを報じる記事である。資料I中のAに適する数字を答えなさい。また、国会の衆議院議員に立候補できる被選挙権は何歳以上か答えなさい。

資料I

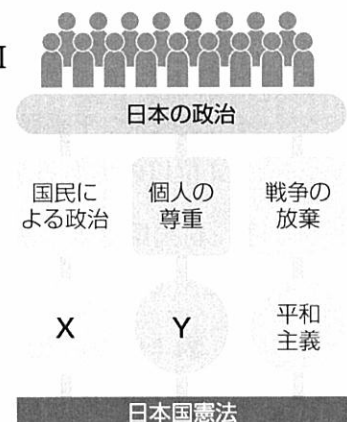


(2015年6月17日 日経新聞夕刊より)

問2 資料IIは、日本国憲法の三つの基本原理を表している。Xに適する基本原理をそれぞれ答えなさい。

問3 日本国憲法の基本原理の一つに平和主義があるが、戦争放棄・戦力不保持・交戦権の否認について示しているのは、憲法第何条か。数字で答えなさい。

資料II



問4 日本国憲法が施行された日は、現在「憲法記念日」として祝日になっている。日本国憲法が施行されたのは1947年の何月何日か答えなさい。