

平成29年度

福島成蹊中学校 1期入試問題

理科・社会〔社会分野〕

平成28年12月3日（土）

時間 11時15分～11時35分（20分間）

「はじめ」の合図があるまでは、この問題用紙の中を開いてはいけません。

注意事項

1. 問題用紙と解答用紙が配布されます。
2. 問題用紙は1ページから8ページまでです。
3. 問題は【1】から【5】までです。
4. 監督者の指示に従い、解答用紙の注意事項にそって必要事項を記入しなさい。
5. 解答は記述式です。最も適切な答えを解答用紙にていねいに記入しなさい。
6. 問題の内容についての質問は、一切応じません。それ以外のことからについてたずねたいことがあれば、手をあげて監督者に聞きなさい。
7. 監督者の「はじめ」の合図で始め、「やめ」の合図ですぐやめなさい。
8. 定規を使用してもかまいません。ただし、計算機能を有する機器は使用してはいけません。

【1】図1は、歴史を社会のしくみなどによって分けた時代区分を示したものです。この図を見て、次の(1)～(4)に答えよ。

図1

原始	①古代	<input type="text"/>	②近世	近代	③現代
----	-----	----------------------	-----	----	-----

- (1)  に当てはまる時代区分の名を答えよ。
- (2) 下線部①の時代に、ナイル川の流域に栄え、太陽暦がつけられた文明を何というか答えよ。
- (3) 下線部②の時代に、太閤検地や刀狩を行い、大阪城を築いた人の名を答えよ。
- (4) 下線部③の時代が日本で始まったとされる1945年は、何世紀か答えよ。

【2】佐保さんのクラスでは、「わが国の文化財」についての学習を行っており、各自が決めたテーマについて調べて発表することになっている。休日に、佐保さんたちは「日本国宝展」を開催している東京国立博物館を訪れて、発表用の資料を作成することにした。各問いに答えよ。

問1 右の表は、佐保さんが「国宝に記録・記述されていること」をテーマにして、博物館で見学した内容などから作成したもの的一部である。

国宝	国宝に記録・記述されていること
A <u>金印</u>	中国と日本列島にあった小国との外交関係
B <u>日本書紀</u>	国の成り立ちに関する神話や伝承
栄花物語	貴族の生活、C <u>摂関政治</u> や院政の時期の様子

① 資料Ⅰは、表中の下線部Aとそこに刻まれている文字の内容を示したものである。どこの国の皇帝がこの金印を授けたのか。資料Ⅰ中の文字からその国名を抜き出して書け。

資料Ⅰ



② 資料Ⅱは、表中の下線部Bの一部を現代語訳したものである。資料Ⅱ中の下線部xがおかれたり、下線部yが築かれたりしたのは、現在のどの都道府県か。その都道府県名を書け。

資料Ⅱ

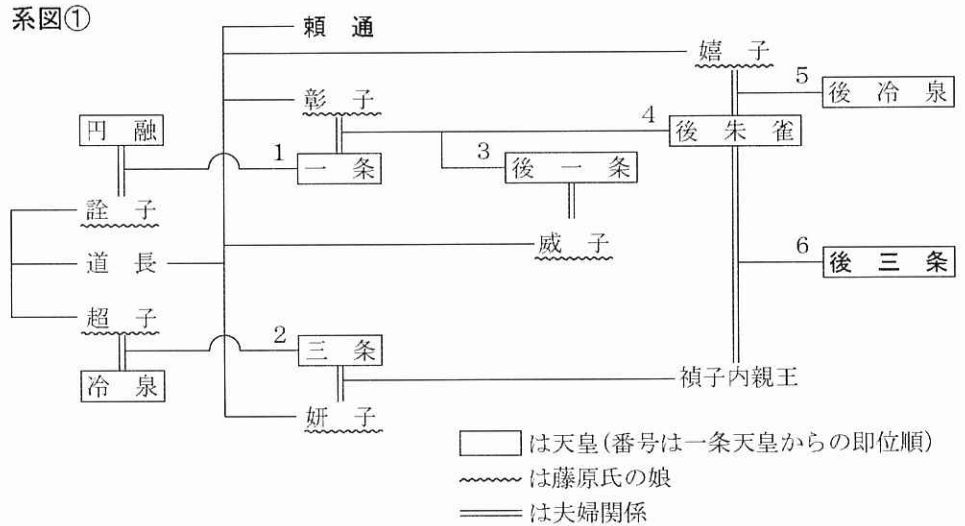
(前略) この年(664年)に、対馬・壱岐・筑紫国などに x 防人をおいた。また、筑紫国に大きな堤を築いて水をたくわえ、名付けて y 水城といった。  
(中略) 六年(667年)三月十九日に、近江の大津宮に都を移した。

(「日本古典文学全集」より作成)

③ 佐保さんは、作成した表に「万葉集」を追加することにした。万葉集の内容から分かることとして最も適切なものを、次のア～エから1つ選び、その記号を書け。

- ア 文明開化によって変化した人々の生活    イ 乱暴な行為をする地頭に抵抗する農民の様子  
ウ 金銭や出世を追い求める町人の様子    エ 天皇から庶民までの広い範囲の人々の生活

④ 系図①は、表中の下線部Cが行われていた時期の天皇と藤原氏の系図である。藤原氏が行っていた摂関政治とはどのような政治か。系図①を参考にして、簡潔に説明せよ。



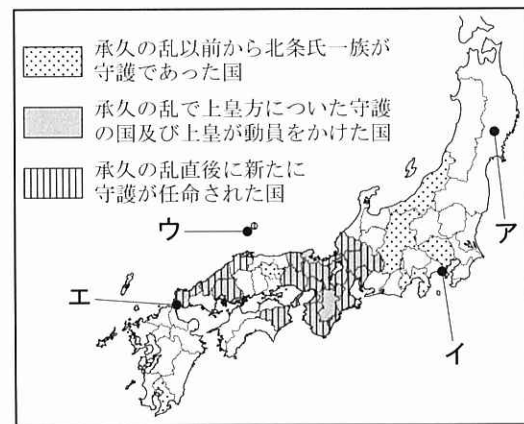
問2 下の表は、春樹さんが「国宝の絵画が描かれた時代の特色」をテーマにして、博物館で見学した内容などから作成したものの一部である。

時代	国宝	国宝の絵画が描かれた時代の特色
鎌倉	D 後鳥羽天皇像	人物の姿を写實的に表そうとする風潮が生まれた。
室町	E 秋冬山水図	禅宗の影響を受けた簡素で気品のある文化が生まれた。
江戸	はせくらつねなが 支倉常長像	キリスト教の禁止と貿易の統制が進んだ。

① 表中の下線部Dが上皇のとき、鎌倉幕府に対して承久の乱が起こした。資料IVは、承久の乱前後における主な守護の配置について示したものである。承久の乱によって、鎌倉幕府の支配力はどのようなになったか。資料IVを参考にして、簡潔に説明せよ。

※守護…鎌倉幕府と『ご恩と奉公』の関係で結ばれた武士が任命される。

資料IV



② 資料Vは、表中の下線部Eの一部で、資料V中のPの部分には、中国で水墨画の技術を学び、この絵画を描いた禅僧の名前が記されている。この禅僧とは誰か。その人物名を書け。

資料V



【3】 真紀さんは、夏休みに家族旅行をしたことなどについて、友人の伸二さん、智美さんと話をした。次は、そのときの会話である。これを読み、地図1をみて、問1～問4に答えよ。

真紀さん：夏休みに、祖父母の住む青森県に行ったよ。

伸二さん：私の両親は新潟県と静岡県の出身で、それぞれの祖父母の家に行ってきたよ。私たちの住む地域とは様子がずいぶん違うように感じたけど、中心となる①産業が違うんだろうね。

智美さん：私は岐阜県の祖父母の家に行ったよ。祖父は②林業を営んでいるんだ。近くには有名な観光地があって、その③住居の屋根の形には特色があったよ。また、埼玉県へ帰る途中、山梨県に寄ったとき、授業で学んだ地形があったよ。

真紀さん：自分たちの祖父母の住む地域について、もっと調べてみたいね。

地図1



問1 下線部①に関連して、次の表は、地図1中の青森県、新潟県、静岡県、岐阜県における農業産出額、漁業生産量、工業出荷額を示したものである(2011年)。表中のⅠ～Ⅲにあてはまる県の組み合わせとして正しいものを、下のア～エの中から一つ選び、その記号を書け。

表

県名	農業産出額 (億円)	おもな産出物			漁業生産量 (t)	工業出荷額 (億円)
		米	野菜	果実		
岐阜県	1130	254	333	51	1749	49527
Ⅰ	2127	213	566	296	202506	150488
Ⅱ	2804	535	616	751	162983	14150
Ⅲ	2756	1604	417	85	32724	43877

(データでみる県勢 2014年版から作成)

ア Ⅰ－新潟県 Ⅱ－青森県 Ⅲ－静岡県

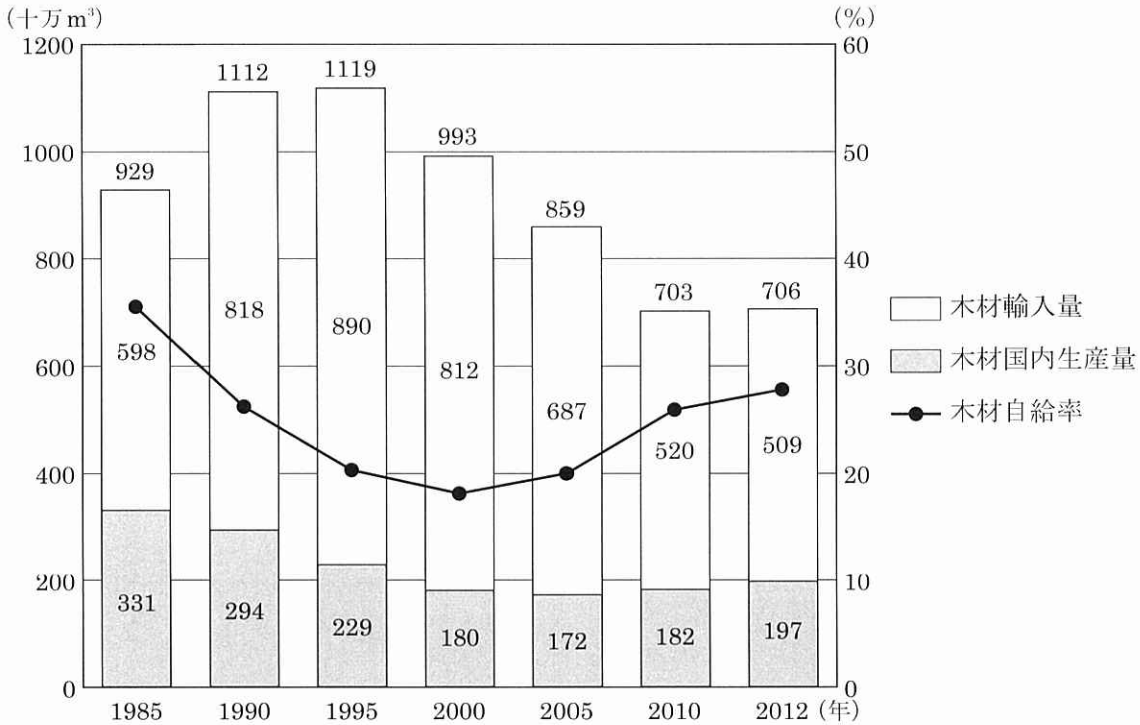
イ Ⅰ－静岡県 Ⅱ－青森県 Ⅲ－新潟県

ウ Ⅰ－青森県 Ⅱ－静岡県 Ⅲ－新潟県

エ Ⅰ－静岡県 Ⅱ－新潟県 Ⅲ－青森県

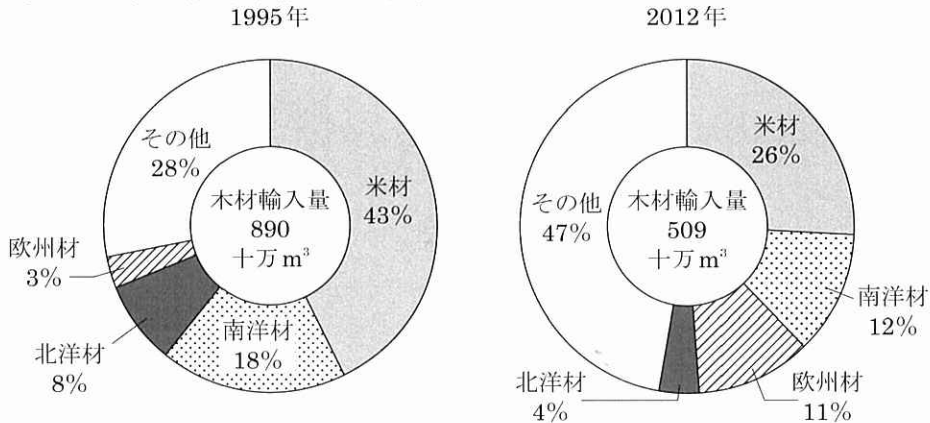
問2 下線部②に関連して、智美さんは日本の林業について調べ、次のグラフ1とグラフ2をつくった。グラフ1とグラフ2から読みとれる内容を述べた文として誤っているものを、下のア～エの中から一つ選び、その記号を書け。

グラフ1 日本の木材輸入量、木材国内生産量及び木材自給率の推移



(注) 四捨五入をしているため、木材輸入量と木材国内生産量の合計が一致しない場合がある。

グラフ2 産地別木材輸入量の内訳




(注) 米材とはアメリカとカナダから、南洋材とはマレーシアやインドネシアなどから、北洋材とはロシアから、欧州材とはロシアを除くヨーロッパ各国から、それぞれ輸入された木材のことである。

(「平成25年度森林・林業白書」から作成)

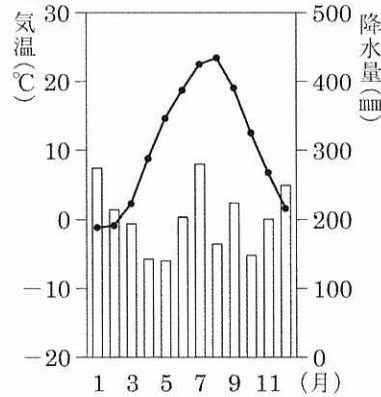
- ア 2012年の日本の木材自給率は、1985年より低い、2000年より高い。
- イ 2012年の日本の木材輸入量と木材国内生産量の合計は、1995年の木材輸入量を下回る。
- ウ 2012年における欧州材の輸入量は、1995年の欧州材の輸入量の3倍を上回る。
- エ 2012年において、日本の木材国内生産量は、米材の輸入量を上回る。

問3 下線部③について、次の資料は、地図1中の岐阜県にある白川村などでみられる伝統的な住居である。また、グラフ3は、白川村の気温と降水量について示したものである。この資料の住居の屋根の形にみられる特色を、白川村の気候に着目して説明せよ。

資料



グラフ3



(気象庁ホームページから作成)

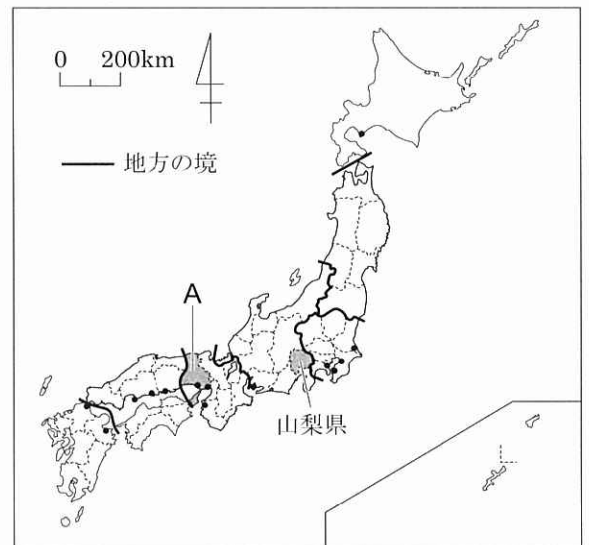
【4】 次の略地図や資料を見て、問1～問4に答えよ。

問1 略地図①は、日本を7つの地方に区分したものであり、次の文は、そのいずれかの地方の自然環境や産業について述べたものである。あてはまる地方名を、ア～エから一つ選べ。

この地方には、3000m級の山々が連なる山脈が、南北に走っている。日本海側は、日本有数の稲作地域で、地域の自然や歴史を生かした伝統産業がさかんである。太平洋側は、冬でも比較的温暖で、輸送用機械の生産がさかんである。

- ア 東北地方      イ 中部地方  
ウ 近畿地方      エ 九州地方

略地図①



(「日本国勢図会」2014/15年版より作成)

問2 資料1は、わが国の食料自給率の推移を表したものである。資料1から読み取れることとして、誤っているものはどれか、ア～エから一つ選べ。

- ア 1960年度と2012年度を比較すると、2012年度には全ての品目において、自給率が低下している。  
イ 小麦以外の品目の自給率は、1960年度から1980年度にかけてよりも、1980年度から2000年度にかけての方が大きく下がっている。

資料1

(単位 %)

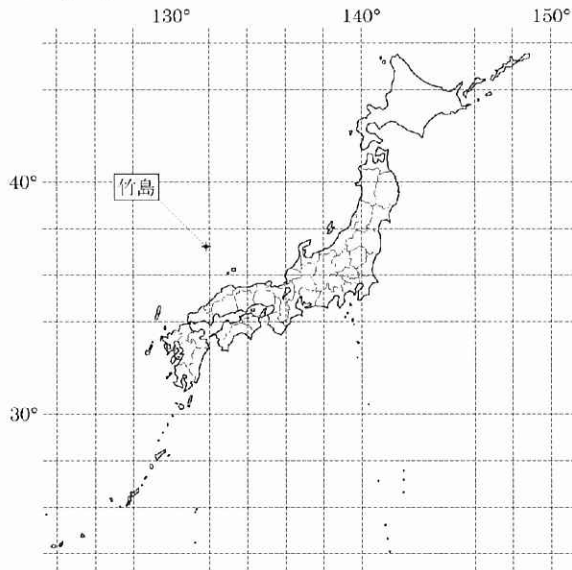
年度 品目	1960	1980	2000	2012
米	102	100	95	96
野菜	100	97	81	78
肉類	91	81	52	55
果実	100	81	44	38
小麦	39	10	11	12

(「日本国勢図会」2014/15年版より作成)

- ウ 米と小麦を比較すると、全ての年度において、米の自給率が小麦の自給率の8倍を上回っている。  
エ 2012年度は2000年度に比べて、3つの品目において、自給率が向上している。


問3 略地図②を参考にして、島根県で最も北に位置する竹島と同じ緯度上にある東北地方の県名を漢字で答えよ。

略地図②



問4 東北地方に「さくらんぼひがしね」という名前の駅がある。この駅を含む地域を示す次の地図①（2010年発行）を見て、次の1～4に答えよ。

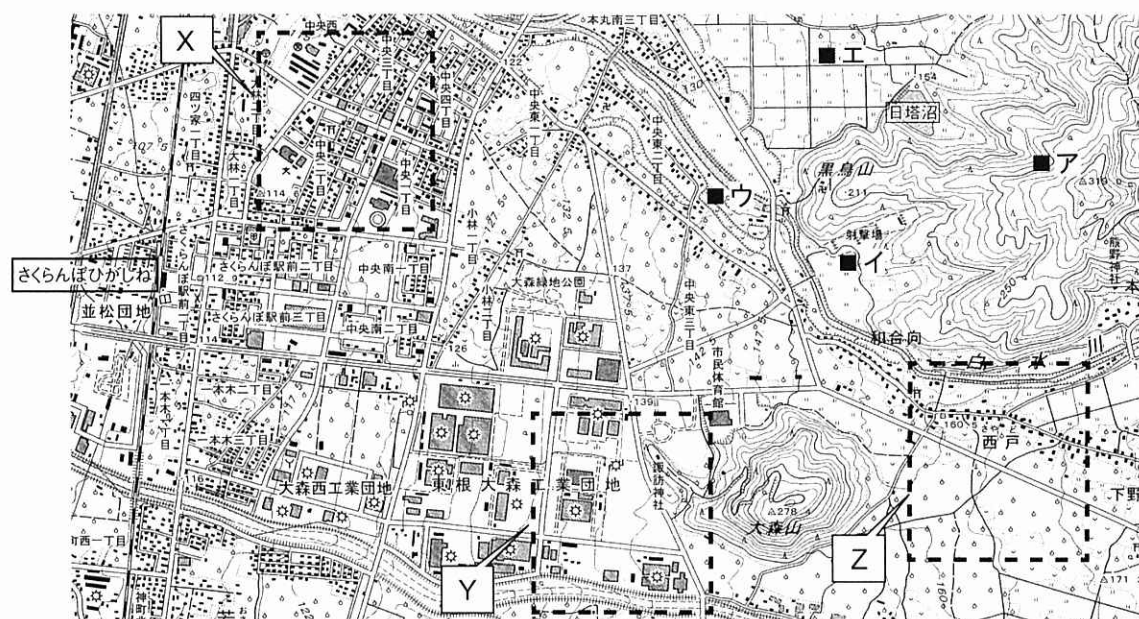
- 1 地図①の中央付近にある「○」の地図記号は何を表しているか答えよ。
- 2 地図①中の ■ 地点ア～エのうち、降った雨が日塔沼に流れこむ場所を一つ選んで記号で答えよ。
- 3 写真②は、地図①中のX～Zの [ ] で囲まれたいずれかの場所を飛行機から撮影した写真である。どの場所を撮影したものが、X～Zから一つ選んで記号で答えよ。



(国土地理院「地理院地図」より作成)

写真②

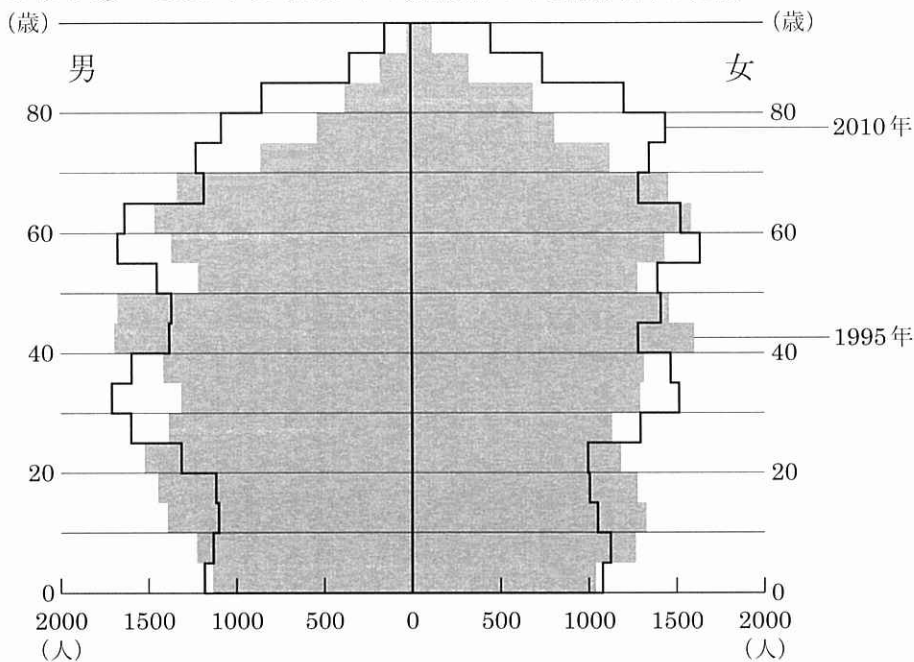
地図①



(2万5千分の1地形図「楯岡」より作成)

4 グラフ①は、「さくらんぼひがしね」駅のある東根市の 1995 年と 2010 年の年齢別人口を示している。グラフ①から読みとれることとして最も適当なものを、下のア～エから一つ選んで記号で答えよ。

グラフ① 1995 年と 2010 年の東根市の年齢別人口の比較



(総務省統計局ホームページより作成)

- ア 1995 年と 2010 年の老年人口（65 歳以上）を比較すると、2010 年の老年人口の方が少ない。
- イ 1995 年と 2010 年の年少人口（15 歳未満）を比較すると、2010 年の年少人口の方が多い。
- ウ 1995 年の 25～29 歳人口と、2010 年の 25～29 歳人口とを比較すると、2010 年の方が少ない。
- エ 1995 年の 25～29 歳人口と、2010 年の 40～44 歳人口とを比較すると、2010 年の 40～44 歳人口の方が多い。

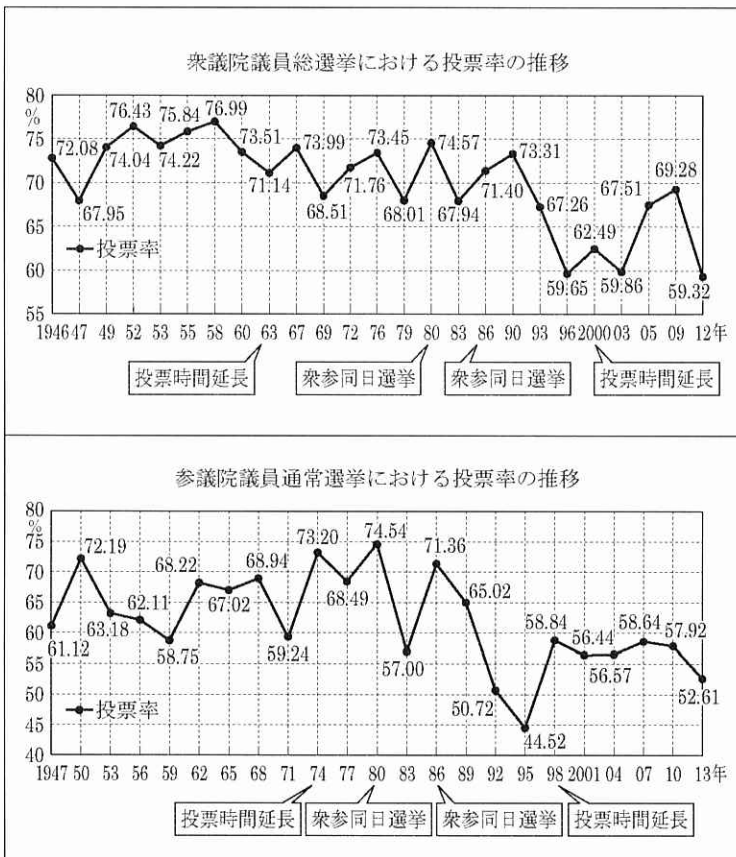


【5】 現代社会に関する以下の問いに答えよ。

問1 資料1は、国政選挙の投票率の推移を表したものである。資料1の説明として最も適当なものを、次のア～エから一つ選んで記号で書け。

- ア 衆議院、参議院ともに、選挙と選挙の間の期間は同じである。
- イ 衆議院、参議院ともに、直前の選挙より投票率が下がった回数は同じである。
- ウ 衆参同日選挙だった、1980年と1986年の際には、いずれの選挙でも、直前の選挙より投票率が上がっている。
- エ 衆議院は1963年と2000年に、参議院は1974年と1998年に、投票時間が延長され、いずれの選挙でも、直前の選挙より投票率が上がっている。

資料1



(「総務省ホームページ」より作成)

問2 2016年7月に選挙が行われたのは、資料1のどちらの議員の選挙か答えよ。

問3 下の3つの新聞記事の空欄A～Cに当てはまる語句をそれぞれ答えよ。

**A**

**問題 交渉加速を確認**

**日口首脳、11月も会談**

【東京25日電】安倍首相と日口首相は、25日午後、東京で会談した。両首脳は、日口首相の訪日について、両国間の関係改善に貢献するものと期待している。また、両首脳は、日口首相の訪日について、両国間の関係改善に貢献するものと期待している。また、両首脳は、日口首相の訪日について、両国間の関係改善に貢献するものと期待している。

**B**

**民主クリントン氏指名**

**米B選 トランプ氏と対決**

【ワシントン25日電】米大統領選を争う民主、共和両党の大統領候補指名大会が、25日午後、ワシントンで開かれた。民主、共和両党の大統領候補指名大会が、25日午後、ワシントンで開かれた。民主、共和両党の大統領候補指名大会が、25日午後、ワシントンで開かれた。

**C**

**英 離脱へ**

**国民投票過半数確定**

**キヤメロン首相、辞意表明**

【ロンドン25日電】英国の国民投票の結果、EUからの離脱が過半数で決定された。首相のキヤメロンは、この結果を受け、辞意を表明した。

朝日新聞 平成28年6月25日

朝日新聞 平成28年9月3日

**民主**

**クリントン氏**

**共和**

**トランプ氏**

国際協調主義、同盟重視	米国第一主義
TPPの再交渉も示唆	TPPに反対
不法移民に市民権も	メキシコ国境に壁を建設
規制を強化	規制強化に反対
同盟関係の維持・強化	駐留米軍費の負担増を要求
継承	否定

朝日新聞 平成28年7月28日